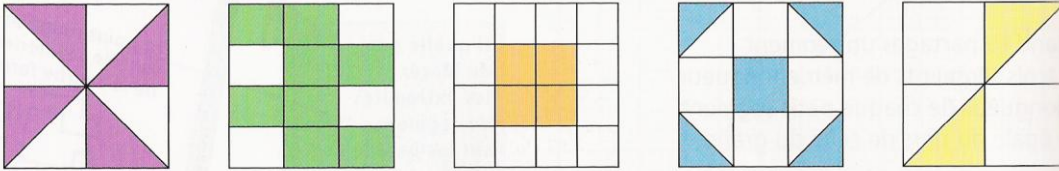
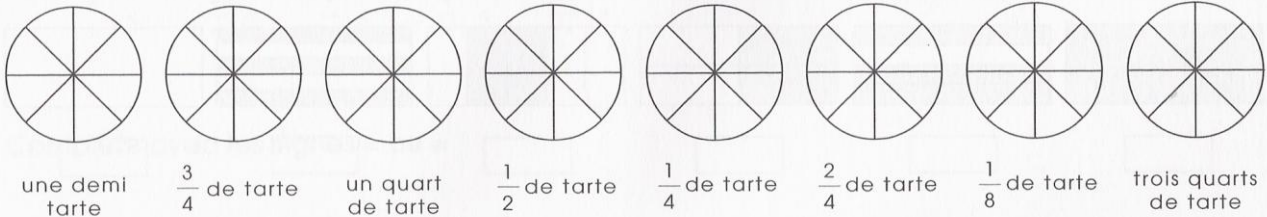
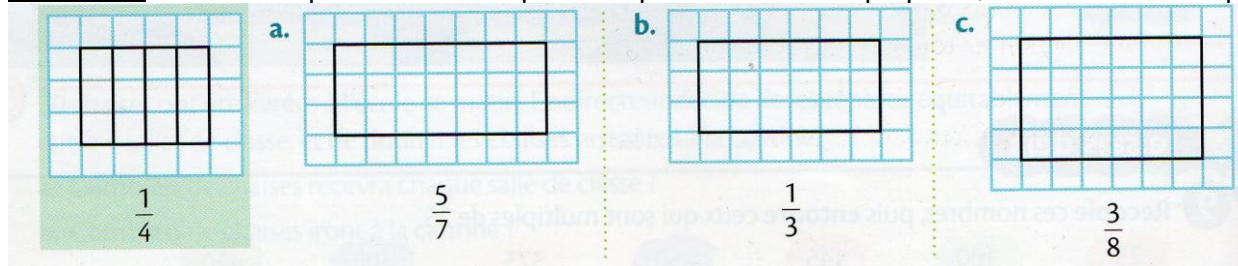
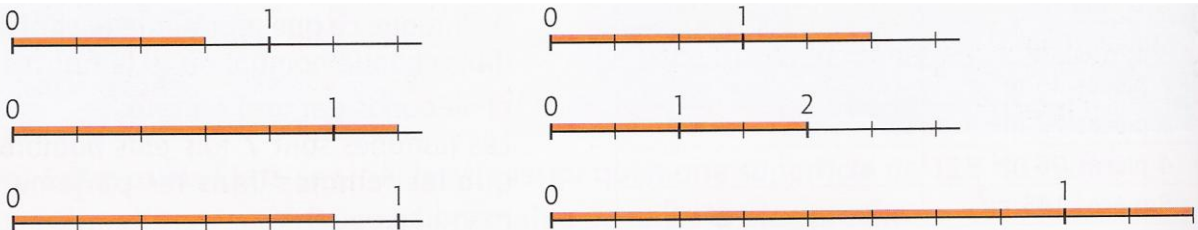





Les fractions simples

Exercice 1 :

Pour chacune des figures ci-dessous, l'aire du carré entier est l'unité. Écris une fraction qui exprime la mesure de l'aire de la partie coloriée, puis une autre fraction qui exprime la mesure de l'aire de la partie non coloriée.

**Exercice 2 :** Colorie la partie de chaque tarte correspondant à l'indication en-dessous.**Exercice 3 :** Colorie la partie du dessin qui correspond à la fraction proposée, comme dans l'exemple.**Exercice 4 :** Écris sous forme de fractions les longueurs suivantes.**Exercice 5 :** Associe à chaque lettre sur l'axe la fraction qui lui correspond.**Exercice 6 :** Résous ces différents problèmes.

- Un match de rugby dure $\frac{4}{3}$ d'heure. Combien cela fait-il de minutes ?
- Une heure c'est 60 minutes. Combien de minutes y a-t-il dans $\frac{1}{2}$ heure, dans $\frac{3}{4}$ d'heure ? Quelle fraction d'heure représentent 20 minutes ?