

Correction du jeudi 4 juin - CM1

Calcul mental

A/ $1,75 \times 10 = 17,5$


B/ $4,32 \times 10 = 43,2$

C/ $0,18 \times 100 = 18$ ou $18,0$

D/ $2,721 \times 100 = 272,1$

E/ $3,568 \times 1000 = 3\ 568$

Problème

Nombre d'entrées	4	10	
Prix en euros	12	20	

On ne peut pas trouver d'opérateur car

- pour passer de 4 à 12, je multiplie par 3 $\boxed{\times 3}$
- pour passer de 10 à 20, je multiplie par 2 $\boxed{\times 2}$

Non, on ne peut pas dire qu'il y a proportionnalité entre le prix et le nombre d'entrées.

Conjugaison

Complète avec être ou avoir au passé simple.

Elles **eurent** le privilège de visiter la grotte de Lascaux.

Cet appareil **fut** hors d'usage en peu de temps.

Il **eut** un élan de joie en voyant arriver Camille.

Les surfeurs **furent** renversés par une énorme vague.

Complète le verbe conjugué au passé simple.

Hier, le soleil **rougit** avant de se coucher.

Ils **aboutirent** au même résultat.

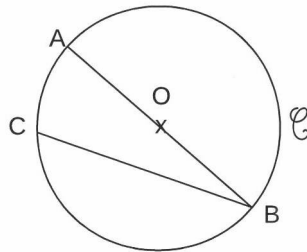
Les touristes **saisirent** l'occasion pour visiter le château.

Cet avion **atterrit** en urgence.

Le cercle

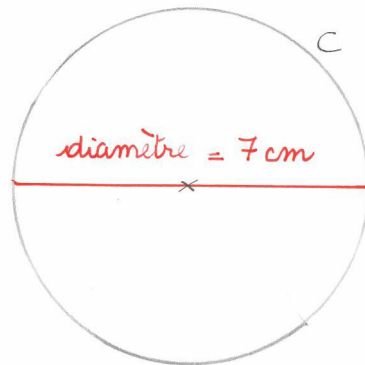
1 Complète avec les phrases avec les mots suivants :

centre – diamètre – cercle – rayon – corde



- a) O est le ... *centre* ... du ... *cercle* ... C.
- b) [AB] est le ... *diamètre* ...
- c) [OB] est un ... *rayon* ...
- d) [CB] est une ... *corde* ...

2 Construis un cercle C de diamètre 7 cm.



Arts

- 1- Quel animal peut-on voir dans cette œuvre ? un chien
- 2- Quelle est la couleur dominante de la robe de la femme ? verte
- 3- Que peut-on voir sur le sol? une paire de chaussures blanches
- 4- Quelle est la couleur du lit ? rouge
- 5- Que peut-on voir sur le mur du fond de la pièce?
un miroir
- 6- Que voit-on sur la commode?
des fruits