





## Correction du jeudi 14 mai - CE2

### Calcul mental :

A/  $32:4=8$     B/  $54:6=9$     C/  $42:7=6$     D/  $49:7=7$     E/  $70:7=10$

### Problème :




#### Réponse a : dessin explicatif :

Equipe 1  6 joueurs	Equipe 2  6 joueurs	Equipe 3  6 joueurs	Equipe 4  6 joueurs
--	--	---	--

$6 \times 4 = 24$  ou  $24 : 6 = 4$ .

On peut faire 4 équipes de 6 joueurs.

#### Réponse b : dessin explicatif :

Equipe 1  8 joueurs	Equipe 2  8 joueurs	Equipe 3  8 joueurs
--	--	---

$8 \times 3 = 24$  ou  $24 : 8 = 3$ .

On peut faire 3 équipes de 8 joueurs.

### Conjugaison :

- 1) Elie a couru → TC
- 2) nous rentrons → TS
- 3) ils avaient dessiné → TC
- 4) je serai parti → TC
- 5) vous mangez → TS
- 6) ils ont mesuré → TC
- 7) tu prépareras → TS
- 8) ils écrivaient → TS
- 9) vous aviez dansé → TC
- 10) elles ont gagné → TC

## Géométrie :


### Exercice 1 :

A2      B1      C3      D4      E6      F7.      G5

### Exercice 2 :

Ce solide possède 8 faces, 18 arêtes et 12 sommets.

## 8/ Arts :



- 1- Combien voit-on de personnages dans ce tableau ? 4
- 2- De quelle couleur est le tablier des petites filles ? blanc
- 3- Que peut-on voir posé sur la table ? des feuilles
- 4) Que peut-on voir au-dessus de la cheminée ? un miroir
- 5) Quelle est la couleur du fauteuil sur lequel le père est assis ? marron
- 6/ Combien de personnages sont debout? 2
- 7) De quelle couleur est le mur ? bleu